

Nom :
Prénom :
Classe : 1

Date :

ETUDE DU MILIEU : exercices
R10 : L'échelle et le calcul de distance
R11 : L'orientation

1) Sur la carte de la Belgique, estime la distance à vol d'oiseau entre :

a. La Louvière et Ostende

Type d'échelle :

Lecture :

Calculs de distance : 13 km 130 km 196 km

b. Arlon et Anvers

Type d'échelle :

Lecture :

Calculs de distance : 22 km 120 km 200 km



2) Sur la carte de la Province de Liège, estime la distance à vol d'oiseau entre Verviers et Huy.

Type d'échelle :

Lecture :

.....

Calculs de distance : 50 km 150 Km 1500 Km

3) Localise un lieu (orientation).

a) Par rapport à Huy, où se situe Liège ?

.....

b) Quelle est la commune la plus à l'Est de la Province de Liège ?

.....

c) Où se trouve la commune de Trois- Ponts par rapport à Sprimont ?

.....

d) Où se localise Waremme par rapport à Liège ?

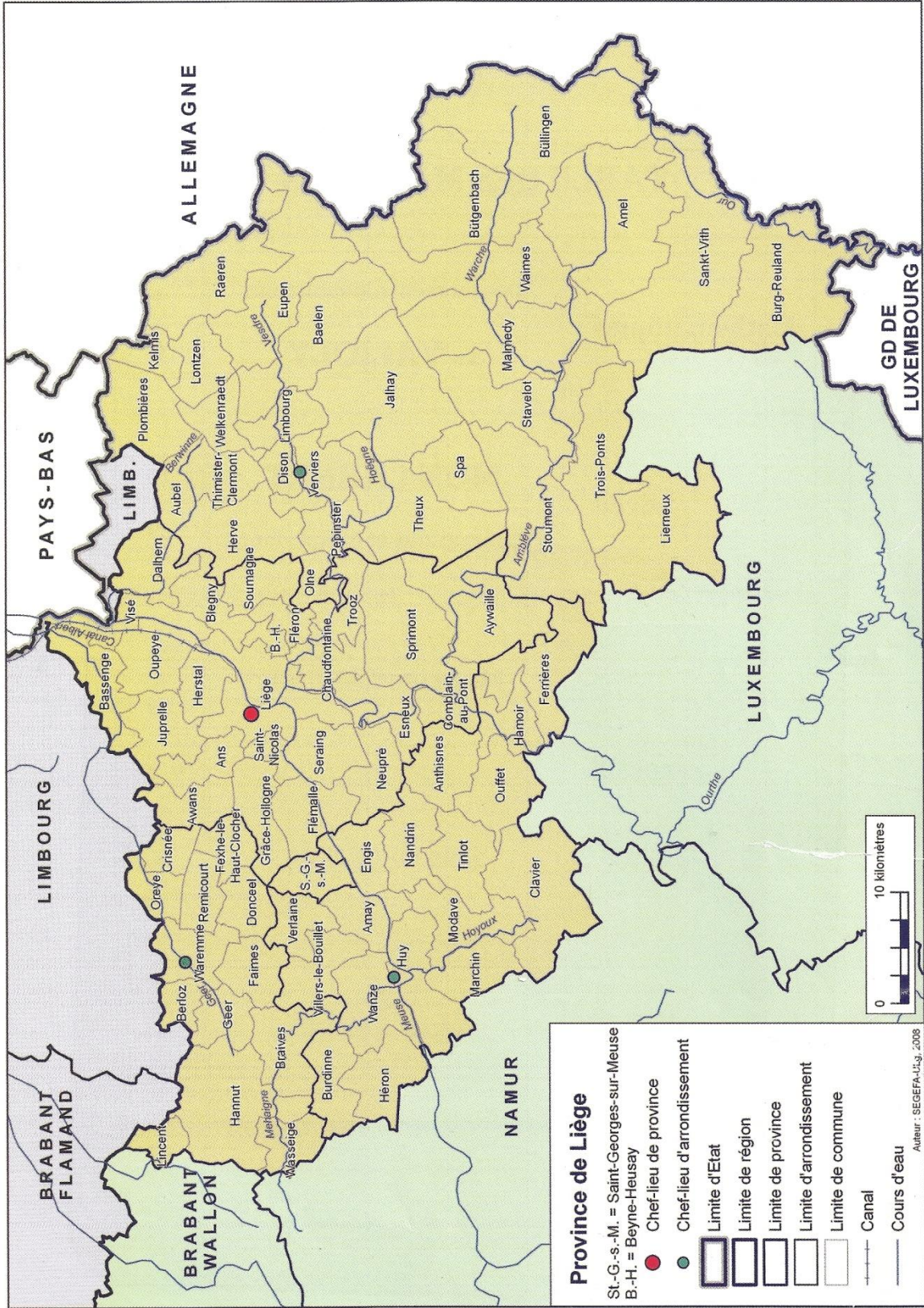
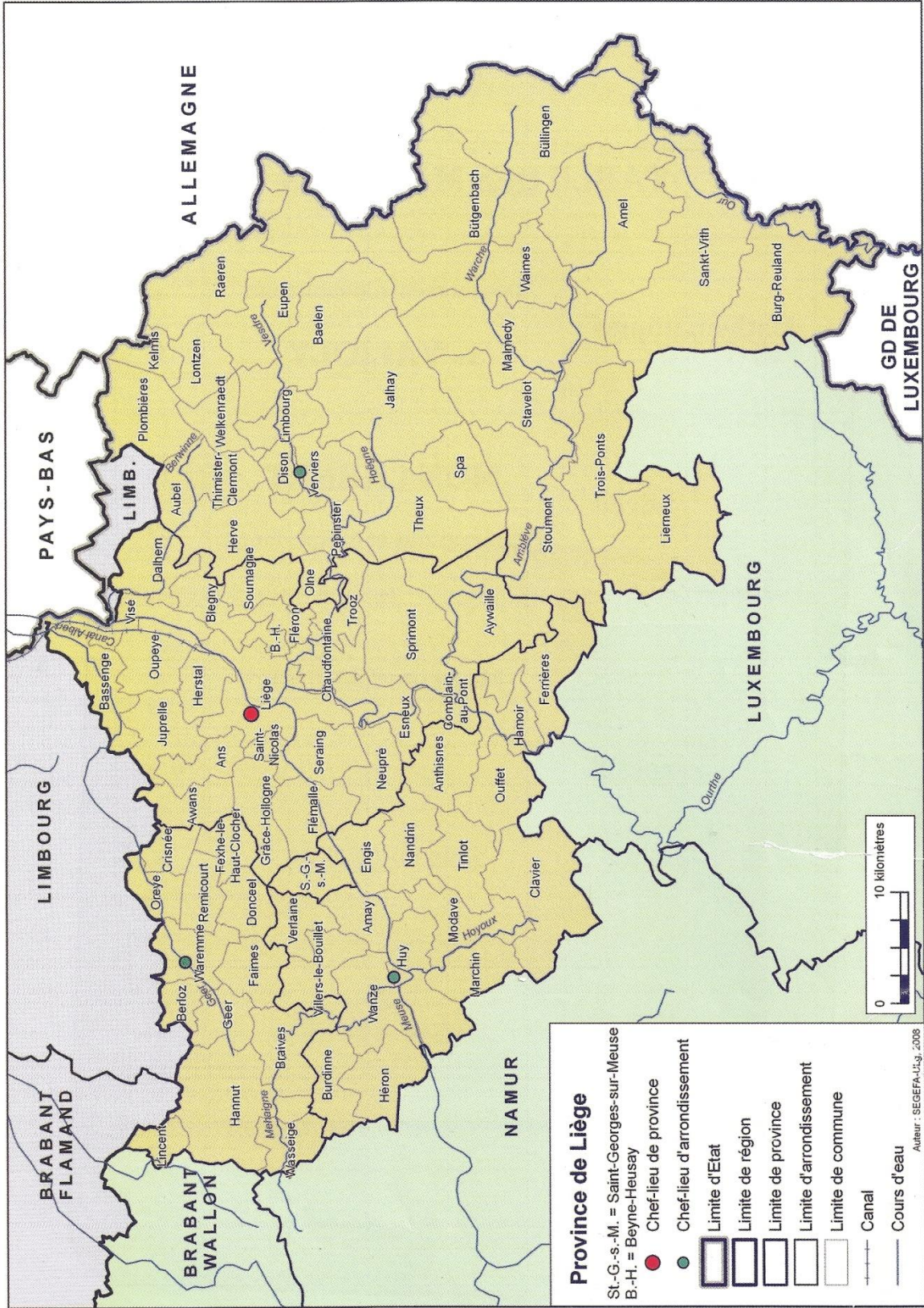
.....

e) Dans quels pays limitrophes peut-on se rendre depuis la Province de Liège ?

.....

f) Quelle est la Province située au sud de celle de Liège ?

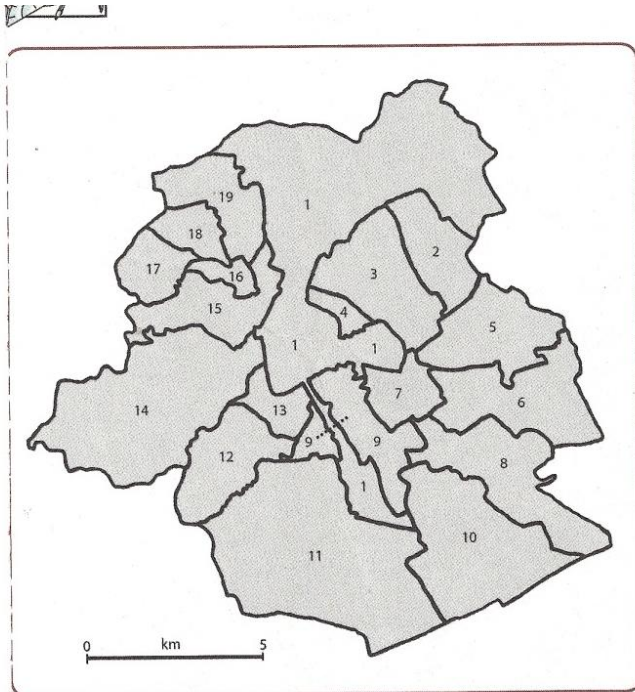
.....



4) Localise les 19 Communes de Bruxelles en complétant la légende.

Pour t'aider, trace une rose des vents à 8 branches à gauche de la carte

Données



- Au nord de Koekelberg se trouve Jette.
- Au sud-ouest de cette commune se situe Ganshoren.
- Au sud de Koekelberg, on est à Molenbeek.
- Berchem-Sainte-Agathe se trouve entre Ganshoren et Molenbeek.
- Au nord-est de Forest se localise Saint-Gilles.
- Anderlecht est au sud de Molenbeek et au nord de Forest.
- Uccle se situe au sud-est de Forest.
- À l'est d'Uccle, on trouve Watermael-Boitsfort.
- Au nord d'Auderghem se localise Woluwé-Saint-Pierre et si on continue vers le nord, on se trouve à Woluwé-Saint-Lambert.
- À l'ouest d'Auderghem se trouve Ixelles et au nord-ouest se trouve Etterbeek.
- Au nord-est de Schaerbeek se localise Evere et Saint-Josse se situe au sud-ouest de Schaerbeek.

Légende:

1 : Bruxelles-Ville

2 :

3 : Schaerbeek

4 :

5 :

6 :

7 :

8 : Auderghem

9 :

10 :

11 :

12 : Forest

13 :

14 :

15 :

16 : Koekelberg

17 :

18 :

19 :

20 :